






**PRÁCTICA 1: CÁLCULO DEL VALOR OHMICO DE RESISTENCIAS**

1. Completa en cada cuadro el código de colores de las resistencias que se te han entregado en el taller y calcula su valor óhmico a partir de dicho código; comprueba ese valor con el polímetro

RESISTENCIA	VALOR ÓHMICO Y TOLERANCIA
	
	
	
	
	

2. Colorea los dos rectángulos con lápiz de carbón y obtén el valor óhmico de estos con el polímetro.

<b>VALOR ÓHMICO</b>

<b>VALOR ÓHMICO</b>